


EXERCÍCIOS: NOTAS NA CLAVE

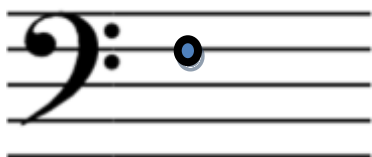
Coloque o nome da imagem:




Tente desenhar e dar nome as três notas acima e abaixo de cada uma das notas representadas:



Qual é a nota referência que cada um dessas claves indicam?
Marque um ponto sobre a linha



FÁ



SOL